



**ATIVIDADES COMPLEMENTARES DE ESTUDO – COVID 19**

**ROTEIRO DE ATIVIDADES COMPLEMENTARES DE ESTUDO – COVID 19**

**ESCOLA MUNICIPAL MONTEIRO LOBATO.**

**PROFESSOR: \_\_\_\_\_ TURMA: SALA DE RECURSO**

**COMPONENTE CURRICULARES: LÍNGUA PORTUGUESA E MATEMÁTICA**

**PERÍODO DE REALIZAÇÃO: 08 a 10 de JUNHO**

<b>VÍDEO OU ÁUDIO DO PROFESSOR</b>	- Áudio do professor com as orientações sobre as atividades.
<b>O QUE VAMOS ESTUDAR?</b>	- Correspondência quantidade/número - Noção de quantidade - Agrupamento - Noção capacidades/massas.Espessura largo/estrito - Noção de adição
<b>PARA QUE VAMOS ESTUDAR ESSES CONTEÚDOS?</b>	- Associar a quantidade ao número correspondente - Comparar quantidade mais/menos - Agrupar números de 2 em 2 - Reconhecer a espessura largo/estrito - Realizar operações de adição
<b>COMO VAMOS ESTUDAR OS CONTEÚDOS</b>	- Enviamos um vídeo com sequência numérica de 1 até 20 para que o aluno possa lembrar. Em seguida foram propostas atividades para que o aluno realize, envolvendo estes números apresentados.
<b>COMO VAMOS REGISTRAR O QUE APRENDEMOS?</b>	- O aluno deve assistir aos vídeos se possível. Realizar as atividades propostas que estarão impressas para que ele registre apenas as respostas.





**ATIVIDADES COMPLEMENTARES DE ESTUDO – COVID 19**

ASSISTA AO VÍDEO ABAIXO E PRESTE BASTANTE ATENÇÃO:

- <https://www.youtube.com/watch?v=9BLs-E-uQNY>
- <https://www.youtube.com/watch?v=OcWuNYyNxrE>

AGORA RESPONDA AS QUESTÕES ABAIXO:

1) CONTORNE AO LADO DE CADA FIGURA, O NÚMERO QUE MOSTRA A QUANTIDADE DE OBJETOS DE CADA FIGURA.



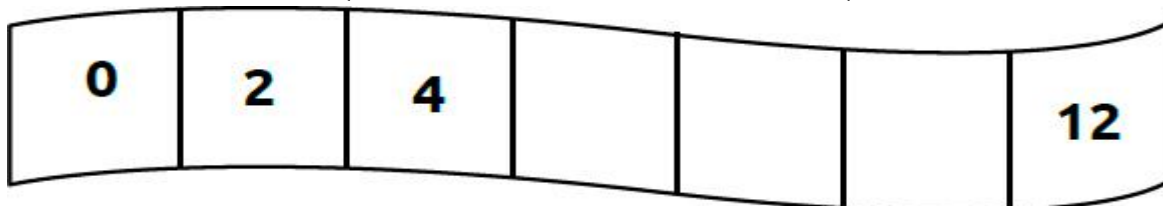
2) A PROFESSORA DE FELIPE ORGANIZOU UMA PARTIDA DE BOLICHE COM SUA CLASSE. O QUADRO ABAIXO MOSTRA A QUANTIDADE DE PONTOS DO GRUPO DE FELIPE E DO GRUPO DE ANA.

ALUNOS	QUANTIDADE DE PONTOS
ANA	
FELIPE	

A) QUAL GRUPO OBTVEVE **MAIS** PONTOS? \_\_\_\_\_

B) QUANTOS PONTOS O GRUPO DE **ANA** FEZ? \_\_\_\_\_

3) ESCREVA OS NÚMEROS QUE FALTAM NO TRECHO DA FITA QUE ESTÁ EM BRANCO:




**ATIVIDADES COMPLEMENTARES DE ESTUDO – COVID 19**

4) AJUDE A MENINA A CHEGAR EM SUA CASA. ELA QUER IR PELO **CAMINHO MAIS LARGO**.  
**PINTE** ESSE CAMINHO.



5) ANDRÉ ADORA FAZER COMPRAS. DESSA VEZ ELE VAI COMPRAR UM LITRO DE LEITE E UM E SUCO NATURAL:



QUANTO ELE **VAI GASTAR COMPRANDO OS DOIS PRODUTOS**? MARQUE UM X NA RESPOSTA CERTA:

- A) 10 REAIS
- B) 11 REAIS
- C) 12 REAIS

6) JULIO TEM 8 BOLINHAS DE GUDE E GANHOU MAIS 3 BOLINHAS DE SUA IRMÃ. COM QUANTAS BOLINHAS ELE FICOU? MAQUE A RESPOSTA CORRETA.



- A) 8 BOLINHAS
- B) 3 BOLINHAS
- C) 11 BOLINHAS